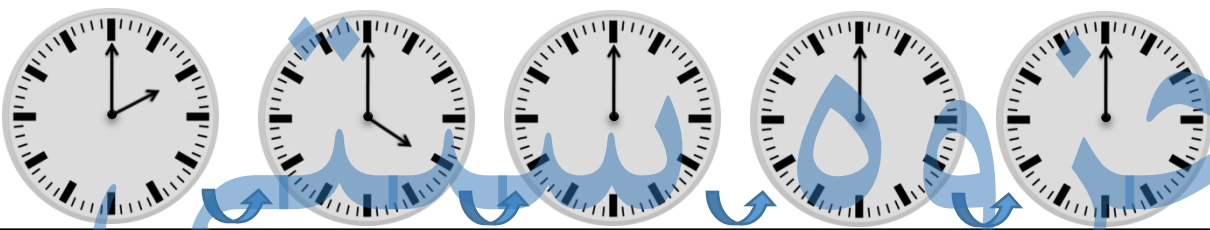
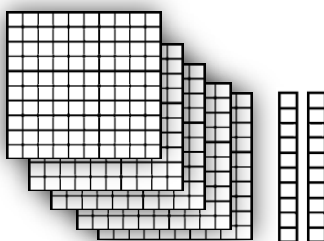


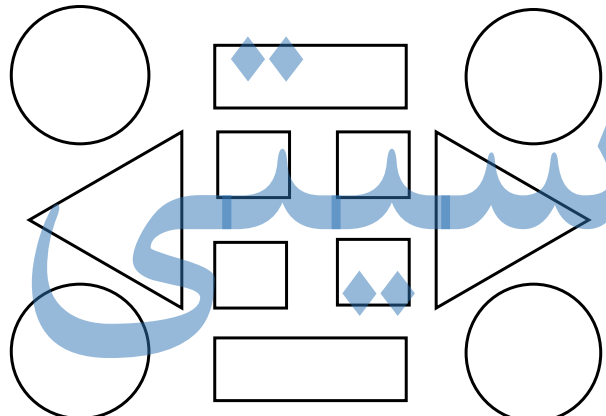
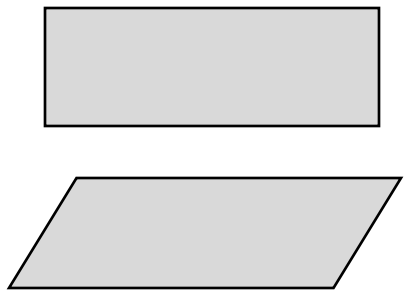


	<p>۱ عددهای دو رقمی بنویسید که یکان آن ها ۴۰۲ و دهگان آن ها ۸۰۵ باشد.</p> <p style="text-align: center;"> <input type="text"/> <input type="text"/> <input type="text"/> <input type="text"/> </p>	۱																		
	<p>۲ جاهای خالی را با توجه به الگوی آن ها پر کنید.</p> <p>۱۷ - ۱۸ - ۱۹ - <input type="text"/> - <input type="text"/> - <input type="text"/> - <input type="text"/> - <input type="text"/></p> <p><input type="text"/> - <input type="text"/> - <input type="text"/> - <input type="text"/> سی و شش - سی و هفت - سی و هشت - سی و نهم</p> <p>۵۵ - ۵۸ - ۶۰ - <input type="text"/> - <input type="text"/> - <input type="text"/> - <input type="text"/></p>	۲																		
	<p>۳ الگوی زیر با کشیدن عقربه نشان بدهید.</p> 	۳																		
	<p>۴ جمع و تفریق های زیر با استفاده از روش گسترده نویسی حساب کنید.</p> <table style="width: 100%; text-align: center;"> <tr> <td>46</td> <td>24</td> <td>67</td> <td>20</td> </tr> <tr> <td>$- 16$</td> <td>$+ 24$</td> <td>$- 30$</td> <td>$+ 29$</td> </tr> <tr> <td>-----</td> <td>-----</td> <td>-----</td> <td>-----</td> </tr> <tr> <td>-----</td> <td>-----</td> <td>-----</td> <td>-----</td> </tr> </table>	46	24	67	20	$- 16$	$+ 24$	$- 30$	$+ 29$	-----	-----	-----	-----	-----	-----	-----	-----	۴		
46	24	67	20																	
$- 16$	$+ 24$	$- 30$	$+ 29$																	
-----	-----	-----	-----																	
-----	-----	-----	-----																	
	<p>۵ عدد مربوط به هر شکل را به عدد و حروف بنویسید</p> <div style="display: flex; justify-content: space-between;"> <div style="width: 30%;">    </div> <div style="width: 30%;"> <table border="1" style="width: 100%; text-align: center;"> <tr> <td>یکان</td> <td>دهگان</td> <td>صدگان</td> </tr> <tr> <td> </td> <td> </td> <td> </td> </tr> </table> <table border="1" style="width: 100%; text-align: center;"> <tr> <td>یکان</td> <td>دهگان</td> <td>صدگان</td> </tr> <tr> <td> </td> <td> </td> <td> </td> </tr> </table> <table border="1" style="width: 100%; text-align: center;"> <tr> <td>یکان</td> <td>دهگان</td> <td>صدگان</td> </tr> <tr> <td> </td> <td> </td> <td> </td> </tr> </table> </div> <div style="width: 30%; text-align: right;"> <input style="width: 100%; height: 30px;" type="text"/> <input style="width: 100%; height: 30px;" type="text"/> <input style="width: 100%; height: 30px;" type="text"/> </div> </div>	یکان	دهگان	صدگان				یکان	دهگان	صدگان				یکان	دهگان	صدگان				۵
یکان	دهگان	صدگان																		
یکان	دهگان	صدگان																		
یکان	دهگان	صدگان																		

	<p>۶ به عدد یا حروف بنویسید</p> <p>دویست و دوازده ۵۴۶</p> <p>۱۰۵ چهارصد بیست و دو</p>
	<p>۷ هر کدام از اعداد داده شده به کدامیک نزدیک تر است؟ داخل آن را رنگ بزنید</p> <p>۲۰ ← ۲۴ → ۳۰</p> <p>۲۵۰ ← ۲۵۷ → ۲۶۰</p> <p>۱۰۰ ← ۱۲۸ → ۲۰۰</p>
	<p>۸ شکل های زیر را طبق راهنما رنگ بزنید.</p>  <p>قرمز → مربع</p> <p>آبی → مستطیل</p> <p>زرد → مثلث</p> <p>سبز → دایره</p>
	<p>۹ تفاوت و شباهت های شکل های زیر را بنویسید.</p> <p>تفاوت:</p> <p>شباهت:</p> 

ارزشیابی آموزگار

خیلی خوب
 خوب
 قابل قبول
 نیاز به تلاش بیشتر

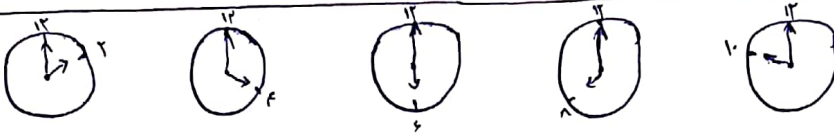
۸۴-۸۲-۵۴-۵۲

۱-

۱۷-۱۸-۱۹-۲۰-۲۱-۲۲-۲۳-۲۴

۲-

سی و شش - سی و هفت - سی و هشت - سی و نه - چهل - چهل و یک - چهل و دو



۳-

$\begin{array}{r} ۴۹ \\ ۵۶ \\ \hline -۳۶ \\ ۶ \\ \hline ۲۰ \end{array}$	$\begin{array}{r} ۲۴ \\ ۱۷۴ \\ \hline +۴۴ \\ ۴ \\ \hline ۴۸ \end{array}$	$\begin{array}{r} ۴۷ \\ ۳۰ \\ \hline -۲۷ \\ ۰ \\ \hline ۲۰ \end{array}$	$\begin{array}{r} ۲۰ \\ ۱۷۹ \\ \hline +۴۰ \\ ۹ \\ \hline ۴۹ \end{array}$
---	--	---	--

۴-

۶- پانصد و چهل و شش ۵۴۶
 درسیست و در اوله ۲۲
 چهارصد و سیست و ارد ۴۲۲
 صد و پنجاه ۱۰۵

۵- پانصد و سیست و هفت

بکان	دهگان	صدگان
۷	۲	۵

سیصد و هفتاد و پنج


بکان	دهگان	صدگان
۵	۷	۳

چهارصد و سه

بکان	دهگان	صدگان
۳	۰	۴

۷- ۲۴ به ۲ نزدیک تر است ۲۵۷ به ۲۶۰ نزدیک تر است ۱۲۸ به ۱۰۰ نزدیک تر است

۸-



۹- تفاوت: یکی مستطیل دیگری متوازی الاضلاع است بابت: همدرد چهارضلعی و از اشکال هندسی هستند